

## 2019 年福建省高等职业教育入学考试第二次质量检查

## 信息技术试卷

## (面向普高)

## I 卷

(试卷满分: 150 分 考试时间: 120 分钟)

## 一、单项选择题 (共 60 题, 每题 1 分, 共 60 分)

1、下列有关信息的说法, 不正确的是 ( )

- A. 同样的信息可以有不同的载体                      B. 信息既不是物质也不是能量, 而是第三类资源  
C. 古代没有信息, 只有信息时代才有信息  
D. 现在智能手机广泛使用指纹解锁, 是为了提升信息的安全性

2、2018 俄罗斯世界杯开幕时, 你在家, 打开电视就可以观看揭幕、决赛战等场次的比赛实况, 这说明信息具有哪一方面的特征 ( )

- A. 真伪性                      B. 传递性                      C. 价值相对性                      D. 时效性

3、舞蹈课上, 同学们按照舞蹈老师的口令起舞, 其信息主要载体是 ( )

- A. 动画                      B. 视频                      C. 声音                      D. 图像

4、随着物联网的发展, 手机可以远程遥控开、关家里的空调、电饭煲等家居产品。其原理主要是通过互联网传递无线信号, 进而控制着家用电器等家居产品, 这体现信息技术的发展趋势是 ( )

- A. 多媒体化                      B. 多元化                      C. 虚拟化                      D. 智能化

5、下列属于现代通信技术应用的是 ( )

- A. 投影机                      B. 扫描仪                      C. 智能手机                      D. 激光打印机

6、学校图书馆购进了一批书籍, 图书管理员用条形码阅读器扫描书籍上的条码, 以获取相关图书信息, 这一过程一般称为 ( )

- A. 信息采集                      B. 信息编码                      C. 信息发布                      D. 保存信息

7、小卓通过网络登录某学习平台, 收看地理学科微课视频, 他获取地理知识的来源属于 ( )

- A. 他人                      B. 事物本身                      C. 电视                      D. 媒体

8、下列可以采集图像信息的工具的正确选项是 ( )

①扫描仪; ②录音机; ③行车记录仪; ④数码照相机

- A. ①②③                      B. ①②④                      C. ①③④                      D. ②③④

9、下列哪一项属于信息技术带来的消极影响 ( )

- A. 通过微信朋友圈, 出售个人隐私资料                      B. 12306 网络购票  
C. 远程诊疗                      D. 在 58 同城发布租房信息

- 10、下列信息来源中，比较可靠的选项是（ ）
- A. 交警部门交通情况通报会                      B. BBS 中的留言
- C. 微信朋友圈推送的消息                      D. 道听途说的消息
- 11、李浩所在的研究性学习小组准备研究中学生手机使用情况及对学习影响问题，小组成员设计了问卷、采访、观察等方法获取了相关的数据，他们对这些数据的可靠性进行了讨论，这种行为属于信息获取环节的（ ）
- A. 确定信息的需求      B. 选择信息来源      C. 评价信息                      D. 保存信息
- 12、下图所示的搜索类型属于（ ）



- A. 全文搜索引擎      B. 目录类搜索引擎      C. 关键字搜索引擎      D. 自动网页搜索
- 13、为了下载软件，小肖在浏览器的地址栏中输入 `ftp://192.168.77.152`，其中 `ftp` 指的是（ ）
- A. 超文本传输协议      B. TCP/IP 协议      C. 主机域名                      D. 文件传输协议
- 14、留守儿童小英准备使用电脑和远在海外的妈妈进行 QQ 视频聊天，可 QQ 提示“没有检测到视频设备”，请问她应该添置的设备是（ ）
- A. 网卡                      B. 摄像头                      C. 打印机                      D. 扫描仪
- 15、下列选项不属于操作系统的是（ ）
- A. 360 浏览器      B. 苹果 IOS 系统      C. Windows10      D. 手机安卓系统
- 16、在计算机内部，使用二进制表示数据，十进制数 11 转换成二进制是多少（ ）
- A. 1101      B. 1001                      C. 1100                      D. 1011
- 17、下列信息单位换算关系，正确的是（ ）
- A. 1MB=1024KB      B. 1GB=1000MB      C. 1MB=1024GB      D. 1MB=1000KB
- 18、下列属于存储设备的正确选项是（ ）
- ①键盘；②储存卡；③移动硬盘；④光盘
- A. ①②③                      B. ①②④                      C. ①③④                      D. ②③④
- 19、在 Windows 的中文输入方式下，`Ctrl+Shift` 的作用是（ ）
- A. 全角与半角状态之间的切换      B. 中英文的切换

- C. 各种不同输入法的切换      D. 中英文标点之间的切换
- 20、在 Windows 操作系统查找文件时，通配符\*与? 的含义是 (      )
- A. \*和? 表示乘号和问号      B. ? 表示任意多个字符，\*表示任意一个字
- C. \*表示任意多个字符，? 表示任意一个字符      D. 查找\*.?与?.\*的文件是一致的
- 21、在 Windows 操作系统中，执行四次复制操作时，对剪贴板中内容的叙述正确的选项是 (      )
- A. 第四次      B. 第二次      C. 第一次      D. 第三次
- 22、在 Word 的编辑状态，要想为当前文档中的文字设定上标、下标效果，应当使用格式菜单中的 (      )
- A. “字体”命令      B. “段落”命令      C. “分栏”命令      D. “样式”命令
- 23、在 Word 表格中，若当前已选定了某一行，此时按 DEL 键将 (      )
- A. 删除选定的这一行      B. 删除表格线但不删除内容
- C. 删除内容但不删除表格线      D. DEL 键对表格不起作用
- 24、利用 Word 编辑文档，不能完成的功能有 (      )
- A. 插入图片、设置水印      B. 插入页眉或页脚、设置项目符号
- C. 设置边框和底纹      D. 编辑动画
- 25、在 Word 中，在文本区域内使用“Ctrl + 单击鼠标左键”的作用是 (      )
- A. 无法确定      B. 选句子      C. 定位插入点      D. 选全文
- 26、在 Excel 工作表的某一单元格中，输入：=99-11-28，则该单元格内显示 (      )。
- A. =99-11-28      B. 1999 年 11 月 28 日      C. 60      D. 99-11-28
- 27、在 A1 单元格内输入“一月”，然后拖动该单元格填充柄至 A2，则 A2 单元格中的内容是 (      )
- A. 一月      B. 二月      C. 空      D. 一
- 28、如果打算在工作表的某个单元格内输入两行字符，在输完第一行后需要按 (      )
- A. Alt+Enter 键      B. Enter 键      C. Ctrl+Enter 键      D. Ctrl+Shift 键
- 29、在 Excel 工作表中编辑一个单元格内容后，确认这次的修改，应当单击 (      )
- A. “=”按钮      B. Esc 键      C. “×”按钮      D. “√”按钮
- 30、在 Excel 中，给当前单元格输入数值型数据时，默认为 (      )
- A. 居中      B. 左对齐      C. 右对齐      D. 随机
- 31、下列文件中不能用 GoldWave 软件打开的选项是 (      )
- A. 鼓浪屿风光.jpg      B. 春天的故事.wav      C. 我的祖国.mp3      D. 茉莉花.midi
- 32、下列属于动画文件的是 (      )
- A. 日出东方.swf      B. 小河淌水.wav      C. 战狼 2.jpg      D. 毕业季.ppt
- 33、根据研究性小组活动的安排，小晖准备去湿地公园获取白鹭生活状况的信息，用于制作一期介绍白鹭

- 的演示文稿，他应该选择的信息采取工具是（ ）
- A. 数码相机、扫描仪  
B. 数码摄像机、数码相机  
C. 打印机、视频采集卡  
D. 条形码阅读机、扫描仪
- 34、下列不属于多媒体技术应用的是（ ）
- A. 利用 Excel 进行成绩统计  
B. 通过网络收看 2018 世界杯比赛  
C. 利用智能手机录制抖音视频  
D. 利用平板播放动画
- 35、要从第四张幻灯片转跳到第十张，可以使用（ ）
- A. 添加动画  
B. 添加超链接  
C. 添加幻灯片切换效果  
D. 排练计时
- 36、在 PowerPoint 中按功能键 F5 的功能是（ ）
- A. 打开文件  
B. 观看放映  
C. 打印预览  
D. 样式检查
- 37、胡老师为讲解二次函数的图像和性质，将文字、图像和动画等媒体用软件 PowerPoint 制作成课件，这种为表现某一主题将多种媒体有机组织在一起的形式，主要体现多媒体的哪一方面的特征（ ）
- A. 集成性  
B. 数字化  
C. 交互性  
D. 非线性
- 38、下列关于算法描述方式的叙述正确的选项是（ ）
- ①自然语言； ②流程图； ③伪代码； ④汇编语言
- A. ①②③  
B. ①②④  
C. ①③④  
D. ②③④
- 39、下列关于算法特征的叙述，正确的是（ ）
- A. 算法所包含的步骤可以是无穷的  
B. 算法每一步骤必须确切地定义  
C. 一个算法可以没有输出  
D. 算法只能用 Visual Basic 来实现
- 40、在 VB 中，表达式  $6 + \text{Abs}(-4)$  的执行结果是（ ）
- A. 4  
B. 8  
C. 10  
D. 2
- 41、下列选项全属于计算机高级程序设计语言的是（ ）
- ①Pascal； ②FlashGet； ③C++； ④VB
- A. ①②③  
B. ①②④  
C. ②③④  
D. ①③④
- 42、下列适合用计算机程序解决的问题的选项是（ ）
- A. 整理收藏夹  
B. 用电子邮件发送会议通知  
C. 求 100 以内奇数的和  
D. 更新 QQ 空间
- 43、下列属于实时信息交流方式的是（ ）
- A. 微信语音聊天  
B. 在百度贴吧发布帖子  
C. 观看 NBA 实况比赛  
D. 阅读电子书
- 44、下列属于通过网络获取信息行为的是（ ）
- A. 登录携程网查询去北京的航班信息  
B. 在学术报告厅聆听关于核心素养的专家讲座  
C. 在陶瓷工作坊学习陶瓷制作工艺  
D. 去社区参加志愿者活动

- 45、下列属于数据库应用系统的选项是（ ）
- ①12306 购票系统；②高考成绩查询系统；③Windows10 系统；④志愿填报系统
- A. ①②③      B. ①②④      C. ①③④      D. ②③④
- 46、下列属于 Access 数据库文件的选项是（ ）
- A. 复兴号动车组.jpg      B. 厉害了我的国.ppt      C. 营销报表.dbf      D. 校本选课.mdb
- 47、某数据表有如下字段：运动员编号、姓名、性别、参加项目。其中最合适设置为主关键字的字段是（ ）
- A. 参加项目      B. 姓名      C. 性别      D. 运动员编号
- 48、某仓储运营企业将库存商品分门别类存放，方便货物进出库，这种商品管理方式属于（ ）
- A. 数据库管理      B. 手工管理      C. 分布式数据库管理      D. 计算机文件管理
- 49、学生成绩数据库中，各门功课的成绩构成一行，该行被称为（ ）
- A. 一条记录      B. 一个字段      C. 一个表      D. 一个数据库
- 50、随着互联网的不断发展，互联网给人们提供了信息服务的同时，也提供了个性化信息资源的管理服务，个人可以利用互联网进行信息资源管理的选项是（ ）。
- ① U 盘；② 微博；③ 移动硬盘；④ QQ 空间
- A. ①③      B. ②④      C. ①④      D. ①②
- 51、下列应用了人工智能技术的选项是（ ）
- A. 通过网络观看世界杯足球赛      B. 收听厦广经济台广播
- C. 李世石与阿尔法围棋（AlphaGo）进行人机大战      D. 利用 Flash 制作动画
- 52、“语音识别”是人工智能的常见应用，下列关于语音输入所应用的技术的叙述，不正确的选项是（ ）
- ①智能代理；②机器翻译；③模式识别；④虚拟现实信息
- A. ①②③      B. ①②④      C. ①③④      D. ②③④
- 53、以下是小柯的观点或行为，其中正确的是（ ）
- A. 《全国青少年网络文明公约》适合小学生和初中生，不适合高中生
- B. 直接打开网友发过来的链接地址
- C. 从网上下载一篇符合自己观点的文章，署自己的名字投稿给某报刊
- D. 下载某软件，通过微信支付付款获取使用授权
- 54、移动硬盘等移动存储设备一旦感染了计算机病毒，存储设备里的文件往往打不开甚至损坏，这体现了计算机病毒的哪一特征（ ）
- A. 隐蔽性      B. 可触发性      C. 表现性      D. 破坏性
- 55、使用病毒扫描软件发现了带病毒的文件，在保护数据安全的前提下，有效的处理方式是（ ）
- A. 清除文件中的病毒      B. 隔离带病毒的文件      C. 删除带病毒的文件      D. 不作处理

56、下列全属于杀毒软件的选项是 ( )

①江民杀毒; ②暴风影音; ③金山毒霸; ④诺盾

- A. ①③④      B. ①②④      C. ①②③      D. ②③④

57、下列关于保护信息系统安全的行为, 不正确的是 ( )

- A. 在局域网共享的计算机设置登录权限密码      B. 在计算机机房中铺设静电地板  
C. 经常变换主机放置位置      D. 在网络中安装使用网络防火墙

58、下列属于违法行为的是 ( )

①销售个人隐私资料; ②传播谣言; ③在微信公众号中发布商品促销信息; ④利用“黑客”技术攻击网络

- A. ①②③      B. ①②④      C. ①③④      D. ②③④

59、下列一组 QQ 登录密码最安全的是 ( )

- A. 13850011      B. likeme      C. Tech%#0592      D. love126

60、下列不属于信息安全产品的是 ( )

- A. 网络防病毒软件      B. 信息加密      C. 网上银行“优 key”      D. 移动硬盘

## II 卷 (非选择题)

二、简答题 (本大题共 8 小题, 共 50 分)

61、题 61 图 1、图 2 分别是我的电脑查看及编辑菜单的示意图, 请根据要求回答以下问题 (每空 2 分, 共 6 分)

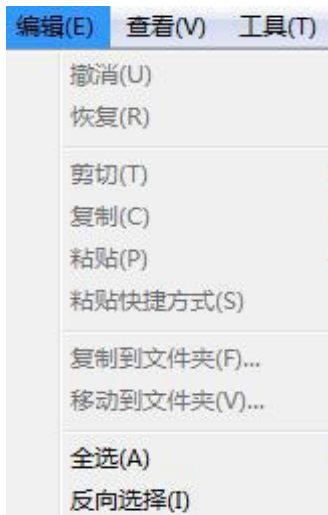
(1) 题 61 图 1 的菜单中, 含有子菜单的选项是\_\_\_\_\_;

(2) 题 61 图 1 的菜单中, 单击后会弹出对话框的选项是\_\_\_\_\_;

(3) 题 61 图 2 中复制按钮是灰色而不能使用, 其原因是\_\_\_\_\_。



题 61 图 1



题 61 图 2

62、阅读以下程序段，根据要求回答以下问题(每空 3 分，共 6 分)

```

a = 4
b = 5
If a < b Then
    a = 2 * b
    b = a + b
End If
Print a, b
    
```

执行上述程序段后，变量 a 的值是\_\_\_\_\_，变量 b 的值是\_\_\_\_\_

63、2018 年俄罗斯世界杯各国球队交战期间，场边花絮也有不少：卫冕冠军德国队在本届世界杯首战败给墨西哥，尚在国际空间站的德国宇航员亚历山大-格斯推用特送上来自太空的鼓励，他在社交网站的“推特”写道：“首战不过是适应身手，我从国际空间站为你们祝福。”他还附上一张穿着德国队球衣、飘在空间站里看球的照片。请认真阅读以上案例，根据要求回答以下问题(每空 2 分，共 6 分)

- (1) 本案例中“推特”祝福，其信息传播的途径是\_\_\_\_\_；
- (2) 本案例中，宇航员给球员发“推特”，其信息的主要载体形式是\_\_\_\_\_；
- (3) 宇航员能够从太空给球员发“推特”，体现了信息技术发展的趋势是\_\_\_\_\_。

64、网页文件一般包含下列元素：①文字 ②图形图像 ③超链接。保存网页时如题 64 图 1 所示，请根据要求选择上述的素材文件完成(1)、(2)两小题的填空并回答其他问题。(每空 2 分，共 6 分)



题 64 图 1

(1) 根据已经提供的网页元素，若选择“网页，仅 HTML”这种保存类型，则保存下来的文件内容包含\_\_\_\_\_；(填数字即可)

(2) 根据已经提供的网页元素，若选择“文本文件 (\*.txt)”这种保存类型，则保存下来的文件\_\_\_\_\_；(填数字即可)

(3) 如果要将网页中的图片保存下来，应该选择题 64 图 2 所示的快捷菜单的哪一项\_\_\_\_\_。



题 64 图 2

65、现在有的超市开始使用自主收银机方便顾客购物。在自主收银区的收银机上顾客将所购买的商品的条形码对着收银机的扫描口逐一扫描，购买的商品的品名、价格等信息可被识别，并显示出购物清单及结算金额，顾客确认后，点击收银机上“去结算”按钮，接着在手机端打开支付宝的付款即可完成购物付款

结账，这种自主结算方式大大方便顾客的购物，也给顾客新的购物体验。认真阅读该案例，根据要求回答以下问题(每空 2 分，共 6 分)

(1) 顾客将商品的条形码对着自主收银机的扫描口逐一扫描，购买的商品的品名、价格等信息可被识别，这一过程属于人工智能的哪一领域的应用\_\_\_\_\_；

(2) 顾客点击自主收银机的触摸屏上“去结算”按钮，可以完成结算操作，这一过程主要体现了信息技术的哪一技术的运用\_\_\_\_\_；

(3) 支付宝、微信等移动支付已经走进普通人的生活，这说明信息技术的发展已经进入了哪一阶段\_\_\_\_\_。

66、某一个文件夹内有 25 张 1024×768 像素，16 位色彩等图片，请根据要求回答以下问题（每空 2 分，共 8 分）

(1) 那么这 25 张图片占的存储容量约为\_\_\_\_\_ MB；

(2) 这些图片的像素 1024×768，由像素组成的图片是\_\_\_\_\_（位图/矢量图），它的重要特点是\_\_\_\_\_；

(3) 该文件夹另外还有常用于作为网页里使用的具有动态效果的图片格式，请问该文件的格式是\_\_\_\_\_；(psd/gif/jpg/bmp)

67、小童使用 Access 软件创建“档案”数据表，其界面如题 67 图所示：

档案	
字段名称	数据类型
编号	自动编号
学号	文本
名字	文本
入学成绩	数字
出生年月	日期/时间
是否团员	是/否

题 67 图

(1) 当前创建“档案”数据表的视图为\_\_\_\_\_；

(2) 录入数据后，可以不可以对该数据表增加字段\_\_\_\_\_；（可以/不可以）

(3) 录入数据后删除字段“学号”，则该数据表中“学号”字段的数据将\_\_\_\_\_。

68、近年来，电信诈骗案件持续多发高发，不法分子不断翻新犯罪手法，紧跟社会热点，精心设计骗术，针对不同群体量身定做、步步设套，对受害人进行欺骗、引诱、威胁、恐吓，严重危害人民群众财产安全，扰乱正常生产生活秩序，请看案例 1 的叙述。

案例 1：网络购物诈骗，犯罪分子开设虚假购物网站或淘宝店，一旦事主下单购买商品，并点该商品的链接，网站接着会要求你填写淘宝账号、银行卡号、密码、验证码等个人资料，假如你填写了这种信息，银行卡上金额即被转走。

请认真阅读案例 1 的叙述，根据要求完善概念及回答问题

(1) 诈骗分子发送的钓鱼链接是植入木马的病毒，计算机病毒是指编制或者在计算机程序中插入的具有破坏性，并能自我复制的\_\_\_\_\_；

(2) 病毒能够通过 QQ、电子邮件、U 盘等进行传播，这体现了病毒的哪一方面的特征\_\_\_\_\_；



(3) 电信诈骗属于\_\_\_\_\_ (职务犯罪 / 计算机犯罪 / 刑事犯罪)。

三、综合应用题 (本大题共 4 小题, 共 40 分)

69、题 69 图 1 是小涵制作的电子小报的截图, 请根据要求回答以下问题 (每小题 2 分, 共 10 分)

## 神剧本! 他们是真·战斗民族

腾讯体育 7 月 12 日讯 克罗地亚逆转英格兰成功杀入决赛, 连续 3 场淘汰赛进入加时赛, 连续 3 场淘汰赛先落后再逆袭晋级, 格子军是世界杯史上唯一做到这点的球队, 堪称史上最强大铁军。

大家都知道, 当克罗地亚遇到英格兰, 他们是弱势一方。这不仅仅是因为英格兰是前世界冠军, 是声望和江湖地位更高的世界豪门, 这更是因为, 克罗地亚 1/8 决赛和 1/4 决赛都打满 120 分钟, 网友说: 这是一群体力槽都红了的球员!



在英格兰凭借他们最强武器——定位球, 打入大赛第 9 个依靠定位球破门的进球后, 三狮军团牢牢掌控着比赛。英国媒体在罗列, 这支英格兰又创下多少纪录, 又超过 1966 年的英格兰多少。全世界都在说, 克罗地亚的魔法将到此为止。你能要求一群已经拼光了体能的人多做点什么呢? 这不现实! 这不科学! 这不人道! 这违反常规!

克罗地亚追平了比分, 若非门框, 克罗地亚本该在追平 4 分钟后就反超比分。此时的英格兰才真正开始睡醒, 试图去再度反攻。此后双方都浪费了机会, 比赛不可避免的再度进入加时赛。1990 年世界杯的英格兰后, 又一支连续三场淘汰赛打满 120 分钟的球队应运而生。

佩里西奇的进球给了克罗地亚人再战加时赛的机会。

加时赛里, 人们看到莫德里奇因为体能告罄而出现的低级失误, 人们知道克罗地亚真的已经难以为继。于是全世界都在猜: 克罗地亚要第三次打点球大战吗? 英格兰这一次会赢吗? 他们赢过一次点球大战后, 是否就将一发不可收拾? 但又一次, 人们又错了。战斗民族是这样一群人: 他们可以伤, 可以痛, 可以疲惫, 可以气喘吁吁, 但他们永远不会停下战斗! 克罗地亚人生生逆天改命, 加时赛进球, 让英格兰人连点球机会都没有!

题 69 图 1

(1) 要制作该电子小报的标题应在题 69 图 3 所示的插入菜单的图片选项中选择哪项命令来操作;

(2) 该标题使用的样式应该选择题 69 图 2 中的哪一项\_\_\_\_\_ ; (填序号即可)

(3) 如题 69 图 1 所示的正文第二段起其余的段落的分栏效果应该选择\_\_\_\_\_ ; (两栏/三栏/两栏偏左/两栏偏右)

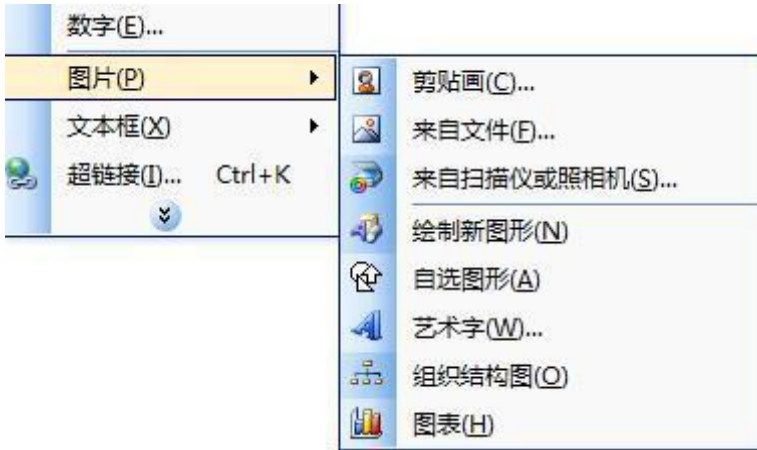
(4) 要在正文中插入如题 69 图 1 所示的图片, 应该在题 69 图 3 所示的图片选项中选择哪一项来操作实现\_\_\_\_\_ ;

(5) 如果要在正文中插入一个 应  该在题 69 图 3 所示的图片选项中选择哪一项来操作实现\_\_\_\_\_ ;



①                      ②                      ③                      ④

题 69 图 2



题 69 图 3

70、小李收集了 2016 年-2017 年某地“双十一”行业销售数据，并使用 Excel 软件进行数据处理，采集的数据如题 70 图 1 所示，请根据要求回答以下问题（每小题 2 分，共 10 分）

(1) 计算增长率，请写出计算 D3 单元格增长率的公式？（增长率=增长量/原总量\*100%）

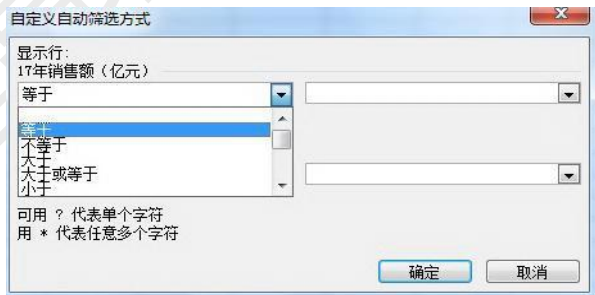
	A	B	C	D
1	<b>2016-2017双十一行业销售情况表</b>			
2	<b>行业名称</b>	<b>16年销售额（亿元）</b>	<b>17年销售额（亿元）</b>	<b>增长率（%）</b>
3	3C数码	25.95	32.36	24.701
4	机车配件	6.43	8.45	31.415
5	家居家装	62.36	86.48	38.679
6	美妆护肤	17.79	23.56	32.434
7	母婴用品	39.62	45.68	15.295
8	日常用品	1.44	1.65	14.583
9	生活服务	2.32	2.88	24.138
10	食品保健	14.38	18.42	28.095
11	文化娱乐	1.64	2.02	23.171
12	运动户外	9.98	12.28	23.046
13	服饰鞋包	132.95	159.37	19.872
14	<b>合计</b>	<b>314.86</b>		

题 70 图 1

(2) 其他单元格（D4：D13）的增长率可以用填充柄填充完成计算，这种方法叫做什么？

(3) 如果要在 C14 中用函数计算“双十一”销售总额，请写出计算的函数式

为了获得 17 年销售额(亿元) 10 以上亿元的行业销售数据，小李想对该列的数据进行筛选操作，如题 70 图 2 所示的自定义筛选的条件应该如何设置？

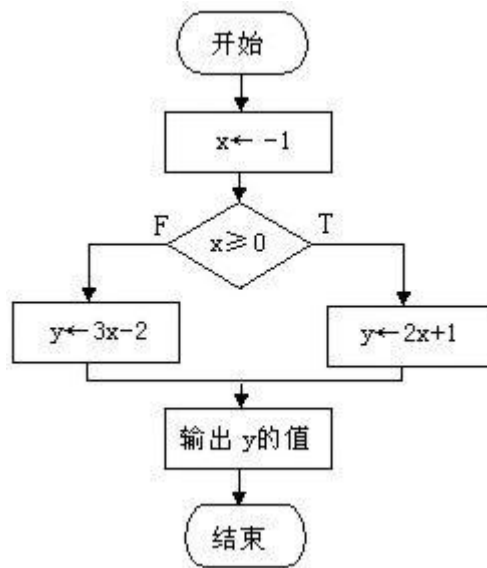


题 70 图 2

(5) 小李想建立一张反映 16 年各行业销售额占总比例的分析图，选择什么图表比较合适？

71、如 71 题图所示的流程图，请根据要求回答以下问题

- (1) 本算法描述的程序结构是什么？
- (2)  $x \geq 0$  的 VB 表达式其正确写法应该是什么？
- (3) 根据图示本算法程序的输出结果是多少？
- (4)  $y \leftarrow 3x-2$  在 VB 中称为\_\_\_\_\_语句
- (5) 用计算机程序解决问题的五个步骤中，哪一步是核心？



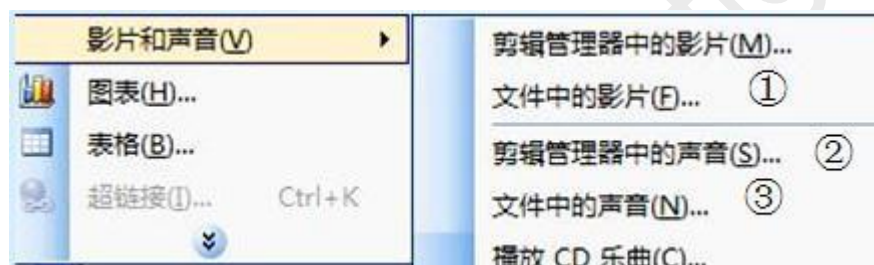
题 71 图

72、题 72 图 1 为某 MP4 播放器的部分参数，请阅读这些参数根据要求回答以下问题：（每小题 2 分，共 10 分）

<b>显示系统</b>	
屏幕尺寸	5 英寸
屏幕色彩	1600 万色
屏幕分辨率	800×480
<b>视频性能</b>	
视频格式	RM、RMVB、AVI、FLV
图片浏览格式	JPEG、BMP、PNG
<b>音频性能</b>	
设计类型	录放
音乐格式	MP3、WMA、FLAC
播放模式	顺序播放、随机播放、循环播放、单曲循环、单曲播放
录音性能	支持录音格式：MP3、WAVE

题 72 图 1

- (1) 该播放器能不能播放音频文件“dream.ape” \_\_\_\_\_ (能/不能)；
- (2) 该播放器能不能播放“梦开始的地方.flv” \_\_\_\_\_ (能/不能)；
- (3) 小静利用该音频编辑器进行一段朗读录音，并将录音文件保存为“我的毕业季”那么该文件的扩展名可能是\_\_\_\_\_；
- (4) 小静要将该录音文件插入正在制作的演示文件中，应该选题72图2中的哪一项\_\_\_\_  
\_\_\_\_\_来完成操作；（填序号即可）
- (5) 小静利用Flash动画制作软件设计制作毕业简历，将文件保存为“我的简历”的Flash原文件，请写出该文件名（含扩展名）\_\_\_\_\_；



题 72 图 2