

(在此卷上答题无效)

机密★启用前

2019 年福建省高等职业教育入学考试第一次质量检查**计算机类专业基础知识试卷**

学校_____ 班级_____ 姓名_____ 成绩_____

(面向中职考生)

本试卷分为第 I 卷和第 II 卷两部分, 第 I 卷 1 至 4 页, 第 II 卷 5 至 9 页。考试时间为 150 分钟, 满分 300。

注意事项:

1. 答题前, 考生务必在试卷、答题卡规定的地方填写自己的准考证号、姓名。考生要认真核对答题卡

上粘贴的条形码的“准考证号、姓名”与考生本人准考证号、姓名是否一致。

2. 第 I 卷用 2B 铅笔将答题卡上对应题目的正确答案代码涂黑。如需改动, 用橡皮擦干净后, 再选涂





其他答案代码。第 II 卷用 0.5 毫米黑色签字笔在答题卡上书写作答。在试卷上作答, 答案无效。

3. 保持答题卡卡面清洁, 不折叠, 不破损。考试结束, 考生必须将答题卡和试卷一并交回。

第 I 卷 (共 165 分)

一、单项选择题 (本大题共 40 小题, 每小题 3 分, 共 120 分。在每小题列出的四个备选项中只有一个是符合题目要求的, 请选出并将答题卡上对应的答案代码涂黑, 错涂、多涂或未涂均不得分。)

1. 计算机发展阶段的划分是以()作为标志的。
A. 存储器 B. CPU C. 逻辑元件 D. 运算速度
2. 计算机在实现工业自动化方面的应用属于()
A. 人工智能 B. 实时控制 C. 数值计算 D. 数据处理
3. 下列不属于系统软件的是()。
A. 操作系统 B. 数据库管理系统 C. 语言处理程序 D. Excel 电子表格
4. 计算机能够直接识别并执行的语言是()。
A. 机器语言 B. 汇编语言 C. 高级语言 D. 自然语言
5. 下列说法中不正确的是()。
A. 侵权者要承担相应的民事法律责任
B. 使用盗版软件是一种不道德的行为, 也是一种侵权行为
C. 计算机软件是一种商品, 受到法律的保护
D. 购买正版的软件就可以复制给他人使用了
6. 十进制数 101 转换成二进制数是()。
A. 01100101 B. 01100110 C. 01101000 D. 01101001
7. 字符 'A' 的 ASCII 码值要比字符 'a' 的 ASCII 码值()。
A. 相等 B. 小 C. 大 D. 不能确定
8. Windows XP 的文件组织结构是()。
A. 二维表结构 B. 网状结构 C. 线性结构 D. 树型结构

9. 在 Windows XP 中()
- A. 允许同一文件夹中的两个文件同名, 也允许不同文件夹中的两个文件同名
 B. 不允许同一文件夹中的两个文件同名, 也不允许不同文件夹中的两个文件同名
 C. 允许同一文件夹中的两个文件同名, 但不允许不同文件夹中的两个文件同名
 D. 不允许同一文件夹中的两个文件同名, 但允许不同文件夹中的两个文件同名
10. 下列文件名中, 哪一个是不合法的()
- A. My.system.two.txt B. 昨天 今天 明天.DOC C. AAA D. A>B.EXE
11. 在 WindowsXP 中, “粘贴”的快捷键是()。
- A. Alt + Y B. Ctrl + V C. Alt + C D. Ctrl + C
12. 在 WindowsXP 中, 一个应用程序窗口被最小化后, 该应用程序将()。
- A. 被终止执行 B. 暂停执行 C. 前台执行 D. 被转入后台执行
13. 在资源管理器中, 单击文件夹左边的“+”()
- A. 在左窗口中展开该文件夹的子文件夹
 B. 在左窗口中显示文件夹中的子文件夹和文件
 C. 在右窗口中展开该文件夹中的文件夹
 D. 在右窗口中显示文件夹中的子文件夹和文件
14. 在 Windows 中, 在某个文件夹下按下 Ctrl 键和鼠标左键拖动某一对象, 结果()
- A. 移动该对象 B. 无任何结果 C. 复制该对象 D. 删除该对象
15. 在 Windows 中删除某程序的快捷方式图标, 表示()
- A. 只删除了图标, 而没有删除该程序
 B. 既删除了图标, 又删除该程序
 C. 隐藏了图标, 删除了与该程序的联系
 D. 将图标存在剪贴板, 同时删除了与该程序的联系
16. 使用键盘顺序切换各种输入法, 应该()组合键。
- A. ctrl+Alt B. shift+ctrl C. ctrl+space D. shift+Alt
17. 下列关于 WindowsXP 桌面的叙述中, 正确的是()。
- A. 桌面上图标的排列顺序不能改变 B. 桌面上可同时容纳多个窗口
 C. 桌面的背景不能改变 D. 桌面上的所有图标都不能删除
18. 在 Word 2003 中插入一幅图片, 若要将图片设置为背景, 其环绕方式必须设置为()
- A. 上下型 B. 衬于文字下方 C. 四周型 D. 浮于文字上方
19. Word 2003 具有分栏功能, 下列关于分栏设置中正确的是()。
- A. 最多可以设4栏 B. 各栏的宽度必须相同
 C. 各栏的宽度可以不同 D. 各栏之间的间距是固定的
20. 在 Excel 中, 要实现标题内容横跨单元格 A1 到单元格 F1, 并居中显示, 可以使用下列()按钮实现。
- A.  B.  C.  D. 
21. Excel2003 中, 使用填充控制点完成自动填充功能, 控制点位于单元格的()
- A. 右下角 B. 左上角 C. 左下角 D. 右上角
22. 以下关于 TCP/IP 体系结构的描述中, 正确的是()。
- A. TCP/IP 提供无连接的网络服务, 所以不适合语音和视频等流式业务
 B. TCP/IP 定义了 OSI/RM 的物理层和数据链路层
 C. 在 TCP/IP 体系结构中, 一个功能层可以有多个协议协同工作
 D. TCP/IP 体系结构的应用层相当于 OSI/RM 的应用层和表示层

23. 在“http://www.photc.edu.cn”中“edu”表明该网站是()。
- A. 教育类网站 B. 商业性网站 C. 研究机构 D. 政府
24. 某中学新近组建的一个计算机网络系统属于()。
- A. SAN B. LAN C. MAN D. WAN
25. 市话网在数据传输期间,在源结点与目的结点之间有一条利用中间结点构成的物理连接线路,则这种市话网采用()技术。
- A. 数据交换 B. 报文交换 C. 分组交换 D. 电路交换
26. OSI 参考模型中最上层的是()
- A. 表示层 B. 网络层 C. 会话层 D. 应用层
27. 以下协议不属于 TCP/IP 的网络层的协议是()。
- A. ICMP B. ARP C. SMTP D. RARP
28. TCP/IP 参考模型的网络访问层与 OSI 参考模型的哪一层对应?()
- A. 传输层 B. 网络层与数据链路层
C. 网络层 D. 数据链路层和物理层
29. 223. 168. 2. 56 属于以下哪一类 IP 地址()
- A. A类 B. C类 C. D类 D. E类
30. 下列地址不会分配给特定 Internet 用户的是()
- A. 100. 112. 145. 156 B. 10. 112. 145. 156
C. 219. 112. 145. 156 D. 202. 112. 145. 156
31. 交换机工作在 OSI 层次模型的第 x 层,假第 x 层对应 TCP/IP 模型的第 y 层,那么第 y 层的上一层为:()
- A. 网络接口层 B. 网际互连层 C. 传输层 D. 应用层
32. 网络协议中,()表示数据出现的顺序的意义。
- A. 协议 B. 语法 C. 语义 D. 时序
33. 100BASE-T 标准规定网卡与 HUB 之间的非屏蔽双绞线最大长度为()
- A. 10m B. 50m C. 100m D. 200m
34. 通过计算机网络发布新闻消息属于计算机网络()功能。
- A. 信息交换 B. 资源共享 C. 资源子网 D. 通信子网
35. 计算机系统包括()
- A. 主机和外设 B. 主机和操作系统
C. 硬件系统和软件系统 D. 运算器、控制器、主存储器和输入/输出设备
36. 通常用()来比较计算机的运算速度。
- A. 字长 B. 主频 C. 内存容量 D. 外频
37. 个人计算机属于()
- A. 小型计算机 B. 巨型计算机 C. 大型主机 D. 微型计算机
38. 以下合法的 Visual Basic 变量名是()。
- A. For_Loop B. stop C. 9abc D. a / b
39. 已知 $X < Y, A > B$, 正确表示它们之间关系的式子是()。
- A. $\text{Sgn}(Y-X) - \text{Sgn}(A-B) < 0$ B. $\text{Sgn}(X-Y) - \text{Sgn}(A-B) = -2$
C. $\text{Sgn}(X-Y) - \text{Sgn}(A-B) = 0$ D. $\text{Sgn}(X-Y) - \text{Sgn}(A-B) = -1$
40. 产生 [5, 46] 之间随机整数 VB 表达式是()。
- A. $\text{Int}(\text{Rnd}(1) * 42) + 6$ B. $\text{Int}(\text{Rnd}(1) * 42) + 5$
C. $\text{Int}(\text{Rnd}(1)) + 41$ D. $\text{Int}(\text{Rnd}(1) * 41) + 5$

二、判断题（本大题共 15 小题，每小题 3 分，共 45 分。判断下列各小题正误，你认为正确的，请将答题卡上对应题目的答案代码“A”涂黑；你认为错误的，将答题卡上对应题目的答案代码“B”涂黑。）

41. 高级语言与低级语言一样，它们均是特定的计算机系统所固有的语言。（ ）
42. 防杀病毒软件能检查计算机是否感染病毒，清除部分已感染的病毒。（ ）
43. 区位码是一种字形码。（ ）
44. windows XP 操作系统中的文件管理功能主要是实现文件的按名存取。（ ）
45. 在 Windows XP 中，单击带省略号…的菜单选项后，将会弹出一个子菜单。（ ）
46. Windows XP 桌面上的任务栏可以定位在屏幕的四周。（ ）
47. 在 Windows XP 中，窗口不可以改变大小，对话框则可以。（ ）
48. 在 Word2003 中插入的图片，默认是嵌入型，既不能随意移动位置，也不能在其周围环绕文字。（ ）
49. 在 Word2003 的任何视图下都能可看到分栏效果。（ ）
50. 一个工作簿至少可以包含 255 个 工作表（ ）
51. 在 OSI 参考模型的各层中，相邻层之间的关系是接收与被接收关系。（ ）
52. 计算机的字长即为一个字节的长度。（ ）
53. 不要把干净的软盘和来历不明的软盘放在一起，否则会感染病毒。（ ）
54. 在 Visual Basic 中，参数由两种方式传递给过程：传值和传地址。（ ）
55. 定义全局变量的关键字是 Public。（ ）

机密★启用前

第 II 卷 (共 135 分)

注意事项:

请用 0.5 毫米黑色签字笔在答题卡上书写作答。在试卷上做答, 答案无效。

三、填空题(本大题共 15 小题, 每小题 3 分, 共 45 分。把正确的答案填在答题卡上。)

56. 计算机软件系统包括系统软件和_____。
57. 计算机病毒的特点是_____、传染性、隐蔽性。
58. 已知小写的英文字母"i" 的 ASCII 码值是 105, 则小写英文字母"e"的 ASCII 码值是_____。
59. 当选定文件后, 在默认状态下, 不将文件放到“回收站”中, 而直接删除的操作的快捷键是_____。
60. 在 Word2003 编辑状态下, 可以利用“文件”菜单中的“_____”子菜单来设置每页的行数和每行字符数。
61. 用户可以使用“格式”菜单的_____命令, 可自行选定项目编号的式样。
62. 第 4 行第 3 列单元格地址是_____。
63. 在 OSI/RM 中, _____层向高层屏蔽了下层数据通信的细节。
64. 集线器属于 OSI 模型的第_____层设备。
65. 在网络协议中, 涉及数据和控制信息的格式、编码及信号电平等的内容属于网络协议的_____要素。
66. IP 地址和子网掩码进行_____运算求网络地址。
67. 校园网要与 Internet 互联, 必需的互连设备是_____。
68. 在域 cn - edu - nankai 下面的 www 主机的主机域名为_____。
69. _____原理确立了现代计算机的基本组成和工作方式。
70. 假定有一个文本框, 其名称为 Text1, 为了使该文本框具有焦点, 应执行的语句是_____。

四、程序阅读题(本大题共 5 小题, 每小题 6 分, 共 30 分。把正确的答案填在答题卡上。)

71. 运行程序, 单击窗体后的输出结果是 _____

```
Private sub form_click()  
    DIM sum AS INTEGER  
    Sum%=19  
    Sum=2.52  
    PRINT sum%;sum  
End sub
```

72. 运行程序, 单击窗体后结果为 _____

```
Private sub form_click()  
    x=3  
    if x<=0 then a=4 :print x; a  
    if x<=1 then a=3 :print x; a  
    if x<=2 then a=2 :print x; a  
    if x<=3 then a=1 :print x; a  
end sub
```

73. 运行程序，单击 Command1 按钮，在下面的 Label1 中显示_____

```
Private Sub Command1_Click()
    Dim S as integer, N as integer
    S=0
    N=1
    Do while N<=10
        S=S+N
        N=N+1
    Loop
    Label1.Caption=str(s)
End Sub
```

74. 设有如下程序：

```
Private Sub Form_Click()
    For n = 1 To 20
        If n Mod 5 <> 0 Then m = m + n \ 5
    Next n
    Print m
End Sub
```

程序运行后，单击窗体，窗体上显示的内容是_____

75. 设有如下程序：

```
Private sub form_click()
    Dim a
    Dim I as integer, j as integer
    A=array(1, 2, 3, 4, 5, 6, 7, 8, 9)
    For i=0 to 3
        Print a(5-i);
    Next i
End sub
```

程序运行后，单击窗体，则在窗体上显示的是_____

五、程序填空题（本大题共 10 个空，每空 3 分，共 30 分。把正确的答案填在答题卡上。）

76. 下列事件过程的功能是：输出如右图所示三角形：

```
Private sub command1_click()
    Dim n as integer
    Dim I as integer
    For i=1 to _____ ①
        Print space(10+i) & string(_____ ② , " *")
    Next i
End sub
```



77. 以下程序用于判断输入的年份是否是闰年。如果年份能被 4 整除但不能被 100 整除，或者年份能被

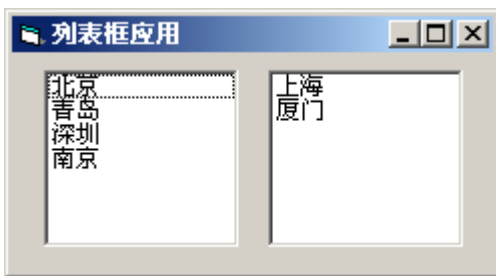
400 整除，则该年为闰年；否则不是闰年。

```
Private sub command1_click()
    Y=val(inputbox("请输入年份"))
    If _____ ① _____ then
        Print str(y) & "年为闰年"
    Else
        Print _____ ② _____
    End if
End sub
```

78. 交换两个列表框中的项目。

程序的功能是在第 1 个列表框（左侧）中显示城市的名字，如果双击该列表框中的某个城市名，则该

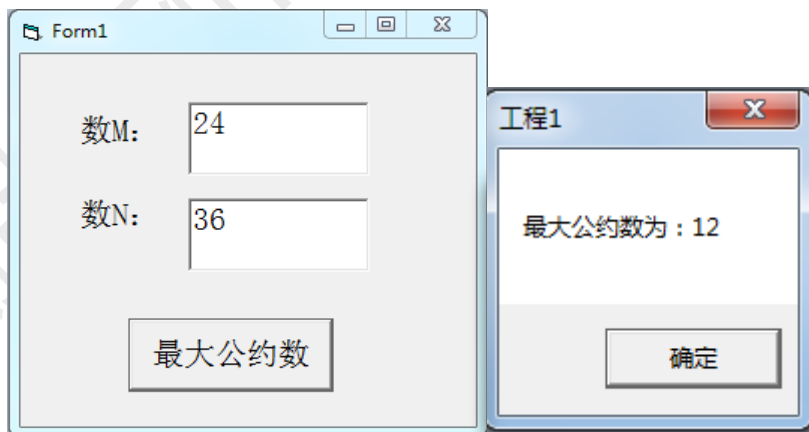
城市从列表框中消失，并移到第 2 个列表框中，如下图所示：



程序如下：

```
Private Sub List1_DblClick()
    _____ ① _____
    _____ ② _____
End Sub
```

79. 下列程序用来求两个整数的最大公约数。



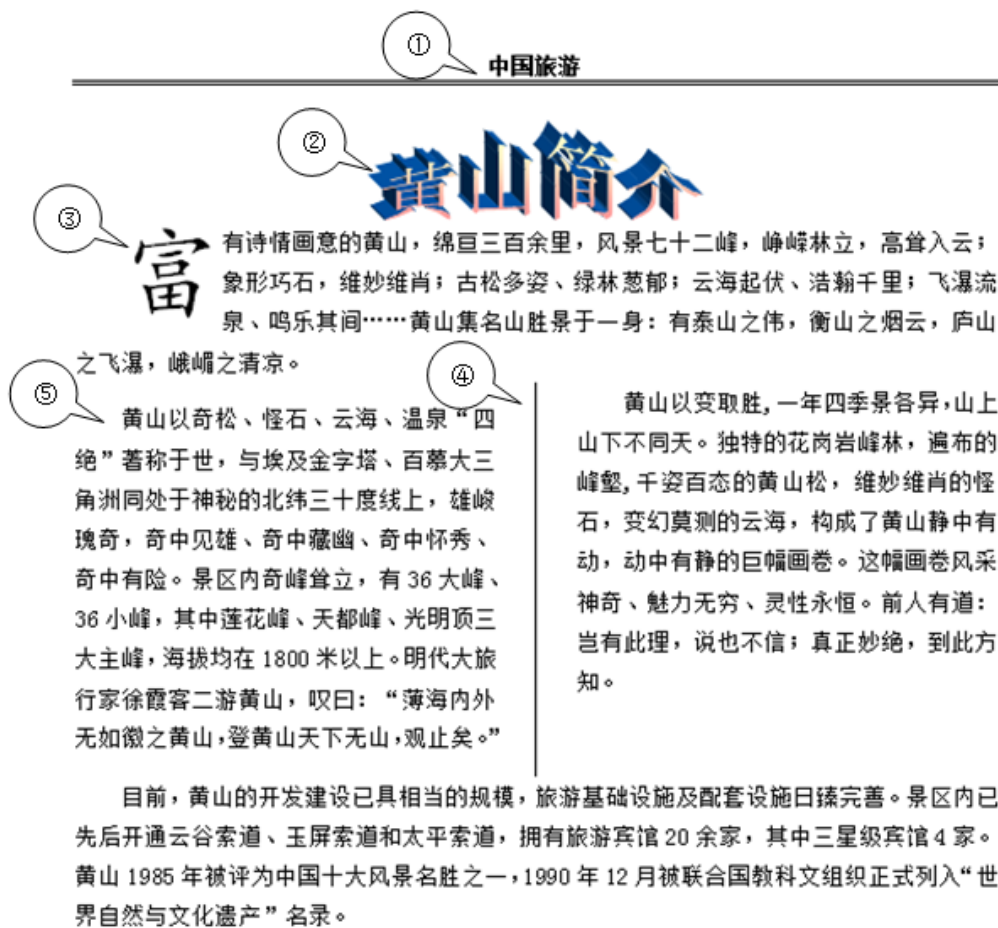
```
Private Sub Command1_Click()
    Dim M as integer,N as integer
    M = Val(Text1.Text)
    N = Val(Text2.Text)
    If M < N Then _____ ① _____
    R = M Mod N
    Do While R <> 0
        _____ ② _____
    End Do
End Sub
```

```

    _____ ③
    R = M Mod N
Loop
_____ ④
End Sub
    
```

六、字表处理综合题（本大题共 2 小题，每小题 15 分，共 30 分）

80. Word2003 综合题：根据题目要求，结合如图所示排版好的 Word 文档，完成下列选择，并将正确代码填写在答题卡对就位置上。



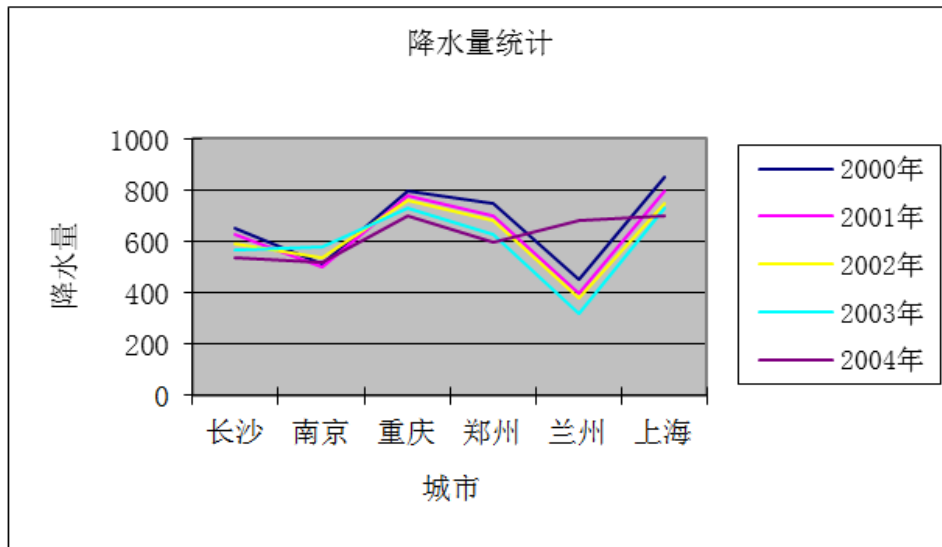
题 80 图

- (1) 文档①中的页眉怎么插入 ()
 - A. 视图菜单→页眉页脚
 - B. 插入菜单→页眉页脚
 - C. 用鼠标单击文档顶端
 - D. 格式菜单→页眉页脚
- (2) 文档中艺术字②怎么设置 ()
 - A. 工具栏菜单→插入艺术字选命令
 - B. 插入菜单→插入艺术字命令
 - C. 插入菜单→图片→插入艺术字命令
 - D. 视图菜单→插入艺术字命令
- (3) 要实现文档中的③应改 ()
 - A. 格式菜单→字体→首字下沉
 - B. 格式菜单→首字下沉
 - C. 视图菜单→首字下沉
 - D. 插入菜单→首字下沉
- (4) 文档中④分栏怎么设置 ()
 - A. 格式菜单→分栏命令
 - B. 工具栏菜单→分栏命令
 - C. 插入菜单→分栏命令
 - D. 视图菜单栏→分栏命令


- (5) 文档中⑤每个段落的格式设置 ()
- A. 格式菜单→段落→两端对齐；首行缩进；
 - B. 格式菜单→字体→两端对齐；首行缩进；
 - C. 视图菜单→段落→两端对齐；首行缩进；
 - D. 格式菜单→段落→字体→两端对齐；首行缩进；

81. Excel2003 综合题，根据题目要求完成填空

蔬菜价格日报表					
批发市场	大葱	大蒜	黄瓜	青椒	洋葱
郑州中原	0.8	1.12	0.6	1.3	0.4
商丘道北	0.65	1.3	0.72	1.43	0.44
开封中州	0.62	1.25	0.78	1.22	0.55
平顶山湛南	0.85	1.39	0.64	1.3	0.46
驻马店星光	0.82	1.06	0.76	1.28	0.58
洛阳旗苑	0.68	1.23	0.62	1.36	0.53



题 81 图

- (1) 在 Excel 2003 中，要设置表格的边框和底纹应选择 () 命令。
 - A. 边框和底纹
 - B. 单元格
 - C. 工作表
 - D. 自动套用格式
- (2) ①处标题文字在“单元格”对话框的“对齐”选项卡中，设置了 () 对齐方式。
 - A. 靠左
 - B. 居中
 - C. 跨列居中
 - D. 分散对齐
- (3) 该图②中的  图标，说明此处添加了 () 功能。
 - A. 筛选
 - B. 排序
 - C. 分类汇总
 - D. 合并计算
- (4) 要想完成图②中的设置，需选择 () 菜单中的命令。
 - A. 编辑
 - B. 格式
 - C. 插入
 - D. 数据
- (5) 在 Excel 2003 中，要想出现数据图表应选择 () 菜单中的“图表”命令。
 - A. 视图
 - B. 插入
 - C. 格式
 - D. 数据